

الجمهورية الجزائرية الديمقراطية الشعبية

وزارة التربية الوطنية ثانويات: المقاطعة التفتيشية رقم 01 بومرداس

امتحان بكالوريا تجربيي التعليم الثانوي

دورة ماي: 2024م

الشعبة: لغات أجنبية

المدة: 03ساو 30 د

اختبار في مادة: التاريخ والجغرافيا

على المترشح أن يختار أحد الموضوعين الآتيين:

الموضوع الأول

التاريخ:

الجزء الأول: (06 نقاط)

"...يعتبر مؤتمر باندونغ من المحطات الأساسية للحركات التحررية والمد التحرري في إفريقيا وآسيا. حضره العديد من الزعماء منهم جواهر لال نهرو، أحمد سوكارنو وجمال عبد الناصر ... شكلت قراراته قاعدة أساسية لمبادئ وأهداف حركة عدم الانحياز ومن ضمنها تحقيق التعايش السلمي ومحاربة التمييز العنصري و تصفية الاستعمار بمختلف أشكاله".

المرجع: تاريخ العالم المعاصر، 3 ثانوي، ص 200، ط 2001.

المطلوب:

أ- اشرح ما تحته خط في النص.

ب- على خريطة العالم المرفقة وقع الدول التي ينتمي إليها الزعماء الواردة أسماؤهم في النص.

الجزء الثاني: (04 نقاط)

قال وزير الداخلية الفرنسي ميتيران بتاريخ 07 نوفمبر 1954م: "إن التفاوض الوحيد مع المتمردين هو الحرب"، ثم صرح ديغول بعد استلامه السلطة سنة 1958م: "إن فرنسا هنا وستبقى للأبد لكن بعد 1960م دخلت فرنسا في مفاوضات جدية مع جبهة التحرير الوطني بصفتها الممثل الوحيد والشرعي للشعب الجزائري.

المطلوب: انطلاقا من العبارة واعتمادا على ما درست، أكتب مقالا تاريخيا تبين فيه:

(1) العوامل التي أجبرت فرنسا على تغيير موقفها.

(2) المبادئ التي تمسكت بها جبهة التحرير الوطني كأساس للتفاوض.

الجغرافيا:

الجزء الأول: (06 نقاط)

(1) "...تمثل الواجهة الأطلسية في شمال شرق الولايات المتحدة الأمريكية ومنطقة البحيرات الكبرى، مجمع مدن متصلة على امتداد يفوق 600 كلم ، وبلغ عدد سكان خمس مدن أساسية فيه 40 مليون نسمة، وتعتبر تلك المنطقتين ذات نشاط اقتصادي وتمركز سكاني هامين، وبالتالي تمثلان منطقة استقطاب و قطب اقتصادي و لهما دور هام في سياسة الامتداد والنفوذ الأمريكية في المجال الاقتصادي...".

المرجع: الكتاب المدرسي، السنة الثالثة ثانوي، ط 2008، ص 50-51- بتصرف - .

المطلوب: اشرح ما تحته خط في النص.

(2) إليك جدولا يمثل نسب صادرات الجزائر حسب القارات عام 2020.

المنطقة	القارة الإفريقية	أمريكا الشمالية والجنوبية	أوروبا	آسيا
النسبة %	08.40	06.60	56.30	28.70

المرجع: د / ياسر قرشي، دراسة تحليلية عن التجارة الخارجية للجزائر، ص 09 – 10.

المطلوب: علق على المعطيات الإحصائية الواردة في الجدول.

الجزء الثاني: (04 نقاط)

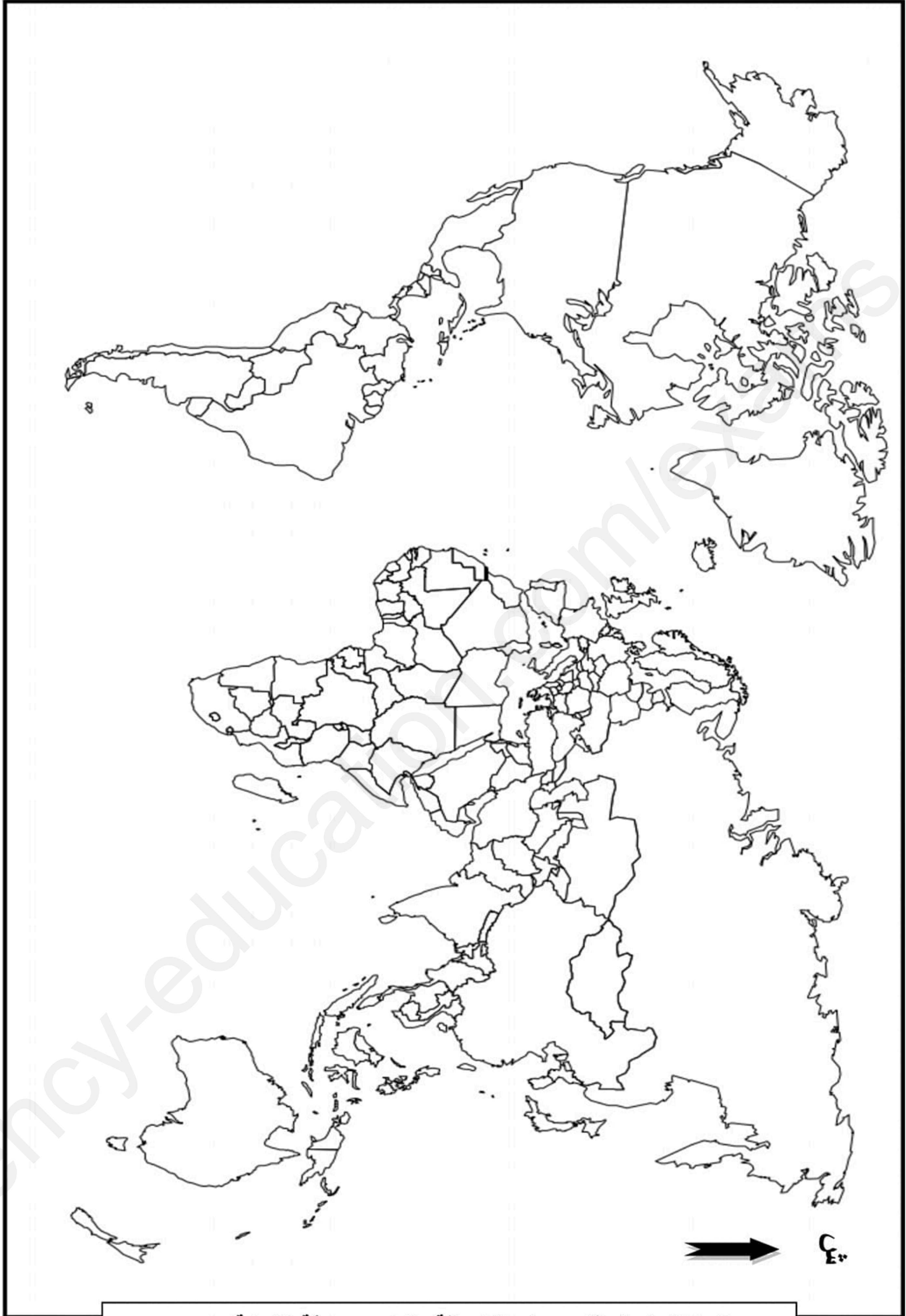
تتسم العلاقات بين العالم المتقدم والعالم المتخلف بالإجحاف في مختلف المجالات خاصة الاقتصادية وتفاقم ذلك في الفترة الأخيرة، إذ كانت عواقبه وخيمة على دول عالم الجنوب.

المطلوب: انطلاقا من الفقرة واعتمادا على ما درست، اكتب مقالا جغرافيا تبين فيه:

(1) مظاهر الإجحاف في العلاقات الاقتصادية بين الشمال والجنوب.

(2) انعكاسات ذلك الإجحاف على دول الجنوب.

انتهى الموضوع الأول



ينجز العمل المطلوب على الخريطة وتعاد مع ورقة الإجابة

الموضوع الثاني

التاريخ:

الجزء الأول: (06 نقاط)

(1) "... لم تحاول أبدا الحكومات المتعاقبة على الحكم في باريس منذ سنة 1954م، الوصول إلى حل بالتفاوض، ولم تأخذ بعين الاعتبار قرارات وتوصيات منظمة الأمم المتحدة... فقد حاولت هذه الحكومات أن تفرض حلولها التي فشلت كلها منها اقتراح غى مولى ... وتعود الاتصالات الأولى بين جبهة التحرير الوطني والحكومة الفرنسية إلى أفريل 1956م حيث تم اللقاء بين مبعوث مانديس فرانس و عبان رمضان و بن يوسف بن خدة في الجزائر العاصمة ...".

المرجع: تاريخ العالم المعاصر، الثالثة ثانوي، ط 2001، ص 208.

المطلوب: عرف الشخصيات التي تحتها خط في النص.

(2) أكمل الجدول التالي:

التاريخ	الحدث
25 ديسمبر 1991م	
	سلم الأبطال
15 أوت 1947م	

الجزء الثاني: (04 نقاط)

تميزت العلاقات الدولية عقب نهاية الحرب العالمية الثانية بظهور نظام دولي في ظل الثنائية القطبية.
المطلوب: انطلاقا من العبارة واعتمادا على ما درست، أكتب مقالا تاريخيا تبين فيه:

- أسس النظام الدولي لما بعد الحرب العالمية الثانية.
- مدى تأثر العلاقات الدولية لما بعد الحرب العالمية الثانية بالصراع بين القطبين.

الجغرافيا:

الجزء الأول: (06 نقاط)

1) "...تشكل الاستثمارات المباشرة في الخارج رأسمال ناتج عن المضاربة و ترتبط أساسا ببعض المراكز المالية على المستوى العالمي ... وتستقبل البورصات الكبيرة أموال المستثمرين المؤسسين كالبنوك و الشركات متعددة الجنسيات..."

المرجع: الكتاب المدرسي/ السنة الثالثة ثانوي/ الجغرافيا/ص 33.

المطلوب: اشرح ما تحته خط في النص.

2) إليك جدولا يمثل تطور نصيب الفرد من إجمالي الدخل القومي في الاتحاد الأوربي والولايات المتحدة الأمريكية ما بين 1990- 2023م (الوحدة : ألف دولار).

السنوات	1990	2000	2005	2010	2015	2020	2023
الاتحاد الأوربي	14.40	18	27	34.70	33.40	34.20	37.10
الولايات المتحدة الأمريكية	24	35	46	49	56	60	76.30

المرجع: مؤشرات التنمية العالمية 2023.

المطلوب: مثل معطيات الجدول بمنحنيين بيانيين في مجال واحد بمقياس رسم:

1سم = 10000 دولار.

1سم = 5 سنوات

الجزء الثاني: (04 نقاط)

يشهد الفضاء الاقتصادي في الاتحاد الأوربي صعوبات و أزمات تعيق اندماجه الكلي، مما يتطلب الاختيار بين أوربا موحدة أو أوربا مفككة.

المطلوب: انطلاقا من الفقرة واعتمادا على ما درست، أكتب مقالا جغرافيا تبين فيه:

1) مظاهر الاندماج الاقتصادي في الاتحاد الأوربي.

2) التحديات التي تواجه الاندماج الكلي للاتحاد الأوربي.

انتهى الموضوع الثاني

مجموعة	مجزأة	عناصر الإجابة (الموضوع الأول)
		التاريخ : الجزء الأول : أ - شرح ما تحته خط في النص : ● مؤتمر باندونغ : هو مؤتمر انعقد في أندونيسيا ما بين 18 - 24 أبريل 1955م شاركت فيه 29 دولة من قارتي إفريقيا و آسيا بهدف التضامن فيما بينها و كان النواة الأولى لنشأة حركة عدم الانحياز .
06	01	● التعايش السلمي : مبادرة سوفياتية نادى بها خروتشوف 1956م و تعني القبول بمبدأ التعدد الأيديولوجي في ظل الاحترام المتبادل بغية حل المشاكل بالطرق السلمية . ● التمييز العنصري : سياسة قائمة على التفريق بين العناصر و الأجناس في منطقة أو دولة معينة (نظام الأبارتيد) .
	01	ب - التوقيع على خريطة العالم الدول التي ينتمي إليها الزعماء الواردة أسماؤهم في النص : الإنجاز : الهند - مصر - أندونيسيا . + العنوان . + المفتاح . الجزء الثاني :
	0.75 3x 0.25 0.5	مقدمة : الإصرار الفرنسي على أن الجزائر فرنسية ثم تغيير موقفها في الستينات ... 1 - العوامل التي أجبرت فرنسا على تغيير موقفها : - قوة الثورة وشموليتها - الخسائر المادية و البشرية التي تكبدتها فرنسا جراء الحرب مع الجزائر . - تدهور الاقتصاد الفرنسي و تعرض خزيتها للإفلاس . - فشل كل المخططات الفرنسية في القضاء على الثورة . - الالتفاف الشعبي حول الثورة . - ضغط الرأي العام الداخلي و الخارجي على فرنسا . - توالي سقوط الحكومات الفرنسية ... - نجاح العمل الدبلوماسي للثورة في الخارج ...
04	0.25 6x	2 - المبادئ التي تمسكت بها جبهة التحرير الوطني كأساس للتفاوض : - اعتبار جبهة التحرير الوطني الممثل الوحيد و الشرعي للشعب الجزائري . - السيادة التامة و الاستقلال الكامل . - تحقيق وحدة الشعب الجزائري . - وحدة التراب الوطني .
	0.5 0.5 0.25 0.25	خاتمة : فشل المخططات الاستعمارية في القضاء على الثورة أجبرها للدخول في مفاوضات جدية . (تقبل كل الإجابات الصحيحة)
	0.5	

		<p>الجغرافيا : الجزء الأول :</p> <p>(1) شرح ما تحته خط في النص :</p> <p>- مجمع مدن : تجمع حضري يتشكل من عدة مدن ذات تعداد و كثافة سكانية كبيرة تتميز بتعدد أنشطتها الاقتصادية و وفرة خطوط المواصلات بينها و تمتد على شكل شريط شبه متصل لمئات الكيلومترات .</p> <p>- منطقة استقطاب :منطقة تتميز بالقدرة على جذب الاستثمارات و السياحة ، لاحتوائها على جميع الإمكانيات و الخدمات كالنقل و المرافق المالية ، مثل الواجهة الأطلسية في الولايات المتحدة الأمريكية ...</p> <p>- قطب اقتصادي : منطقة تمثل قوة اقتصادية مؤثرة فاعلة في الاقتصاد العالمي من خلال قدرتها على جني رؤوس الأموال ، اليد العاملة و المواد الأولية و التكنولوجيا .</p> <p>(2)التعليق على المعطيات الإحصائية الواردة في الجدول :</p> <p>- الوثيقة عبارة عن جدول احصائي اقتصادي يمثل نسب صادرات الجزائر حسب القارات عام 2020 .</p> <p>- التباين في نسب الصادرات الجزائرية مع قارات العالم .</p> <p>- تنوع الأسواق الخارجية للجزائر .</p> <p>- ارتفاع نسب صادرات الجزائر مع أوروبا بسبب العامل التاريخي و القرب الجغرافي و التكامل الاقتصادي بينهما .</p> <p>- نسب صادرات الجزائر مع آسيا متوسطة تهدف إلى تنويع أسواقها و التخلص من الارتباط بالاقتصاد الأوربي .</p> <p>- انخفاض نسب الصادرات الجزائرية مع إفريقيا لضعف و تشابه اقتصاداتها و كذا أمريكا الشمالية و الجنوبية بسبب البعد الجغرافي ...</p> <p>- ضرورة تخلص الجزائر من تبعيتها الاقتصادية بتنويع صادراتها للتخلص من اقتصاد الربيع .</p>
01		
01		
06	01	
	0.5 6x	
	0.5	
04	0.25 6x	
	0.25 6x	
	0.5	
	0.5	

مجموعة	مجزأة	عناصر الإجابة (الموضوع الثاني)								
6	1	التاريخ : الجزء الأول : أ -التعريف لما تحته خط في النص : - عبان رمضان : مناضل سياسي جزائري، عضو في حزب الشعب ثم حركة انتصار الحريات الديمقراطية ، عين كمساعد قائد الولاية الخامسة، يعتبر مهندس مؤتمر الصومام ،صاحب مبدأ أولوية السياسي على العسكري والداخلي على الخارج، توفي 1957.								
	1	- بن يوسف بن خدة : مناضل سياسي جزائري، التحق بالثورة في 1955، عين كعضو في لجنة التنسيق والتنفيذ، يعتبر آخر رئيس للحكومة المؤقتة الجزائرية 1961-1962م.								
	1	- غي مولي: رئيس الحكومة الفرنسية في الجزائر في جانفي 1956 حتى جوان 1957، شارك في العدوان الثلاثي على مصر .								
	1	ب - اكمال الجدول:								
	1	<table border="1"> <thead> <tr> <th>التاريخه</th> <th>الحدث</th> </tr> </thead> <tbody> <tr> <td>25 ديسمبر 1991</td> <td>استقلال الجمهوريات السوفياتية</td> </tr> <tr> <td>1958 /10 / 23</td> <td>سلم الأبطال</td> </tr> <tr> <td>15 أوت 1947</td> <td>إستقلال الهند</td> </tr> </tbody> </table>	التاريخه	الحدث	25 ديسمبر 1991	استقلال الجمهوريات السوفياتية	1958 /10 / 23	سلم الأبطال	15 أوت 1947	إستقلال الهند
	التاريخه	الحدث								
25 ديسمبر 1991	استقلال الجمهوريات السوفياتية									
1958 /10 / 23	سلم الأبطال									
15 أوت 1947	إستقلال الهند									
1										
04	0.5	الجزء الثاني : مقدمة : بعد نهاية الحرب العالمية الثانية، عرفت العلاقات الدولية مسار جديد لما بعد الحرب .								
04	0.25 6x	1 - أسس النظام الدولي الجديد بعد الحرب العالمية الثانية : - تأسيس هيئة الأمم المتحدة للمحافظة على الامن والسلم و توطيد العلاقات الدولية -تغير موازين القوى من أوروبا الغربية إلى الولايات المتحدة الأمريكية و الاتحاد والاتحاد السوفياتي . -الدخول في صراع جديد أيديولوجي بين الفكر الشيوعي والرأسمالي وحدث القطيعة بينهما . -ظهور نظام اقتصادي مالي جديد تتحكم فيه الدول الغربية بزعامة الولايات المتحدة الامريكية . -التطور التكنولوجي والسباق نحو التسلح . -انتشار موجة التحرر في العالم الثالث.								

		<p>2 - مدى تأثير النظام الدولي لما بعد الحرب العالمية الثانية بالصراع بين القطبين:</p> <p>تأثر الى حد كبير ويظهر ذلك في :</p> <ul style="list-style-type: none"> ● انعدام الاستقرار في العلاقات الدولية وكثرة الازمات و تأثيرها على السلم والأمن الدوليين. ● الصراع بين القطبين داخل أروقة الأمم المتحدة واستخدام هياكلها بما يخدم مصالح الطرفين فقط . ● انقسام العالم بين القطبين الغربي الليبرالي والشرقي الشيوعي والدخول في صراع على مختلف الأصعدة دون مراعاة المبادئ والأعراف الدولية. ● انشاء القواعد والأحلاف العسكرية . ● السباق نحو التسليح . ● ظهور التكتلات والمشاريع الاقتصادية . <p>خاتمة : النظام الدولي لما بعد الحرب اسير سياسة الصراع والمصالح التي فرضها القطبان الشرقي والغربي . تقبل كل الإجابات الصحيحة</p> <p>0.25 6x</p> <p>0.5</p> <p>06</p> <p>1</p> <p>1</p> <p>1</p> <p>1</p> <p>1.5</p> <p>0.5</p> <p>0.5</p> <p>0.5</p>
--	--	---

الجغرافيا :

الجزء الأول :

1) شرح ما تحته خط في النص :

1 - الاستثمارات : هو توظيف الاموال والموارد (رؤوس الاموال) في مشاريع من اجل تحقيق الارباح .

1 - المضاربة : هي المخاطرة بالبيع والشراء بناء على توقع تقلبات اسعار السوق، بغية الحصول على فارق الاسعار.

1 - الشركات متعددة الجنسيات : هي شركات عملاقة ذات رؤوس اموال طائلة، لها فروع في مختلف

انحاء العالم (عابرة للقارات)، تشغل عشرات الالاف من العمال مثل شركة "توتال" الفرنسية.

2) تمثيل معطيات الجدول الإحصائية الواردة في الجدول إلى منحنيين بيانيين في مجال واحد :

الانجاز :

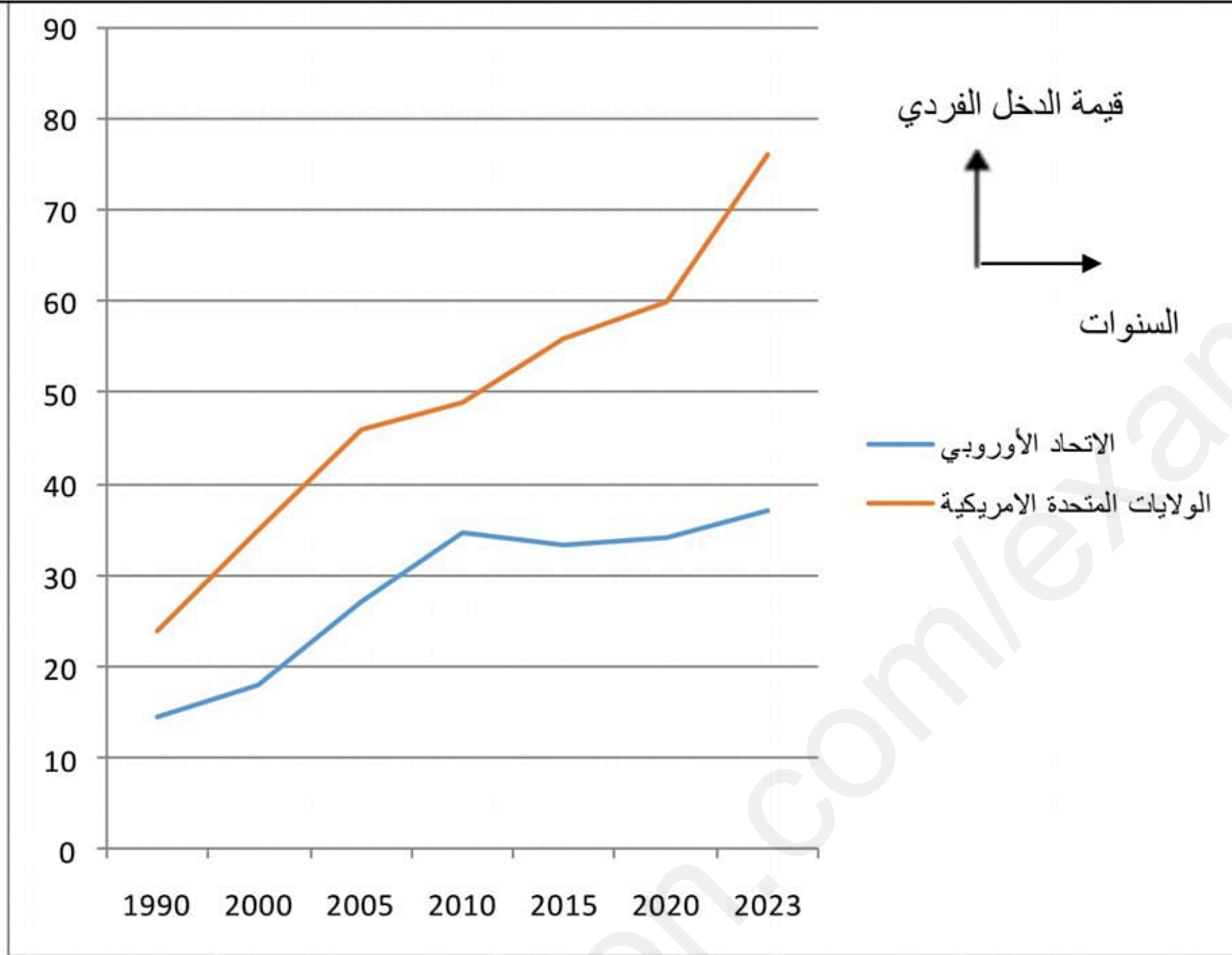
المفتاح:

العنوان :

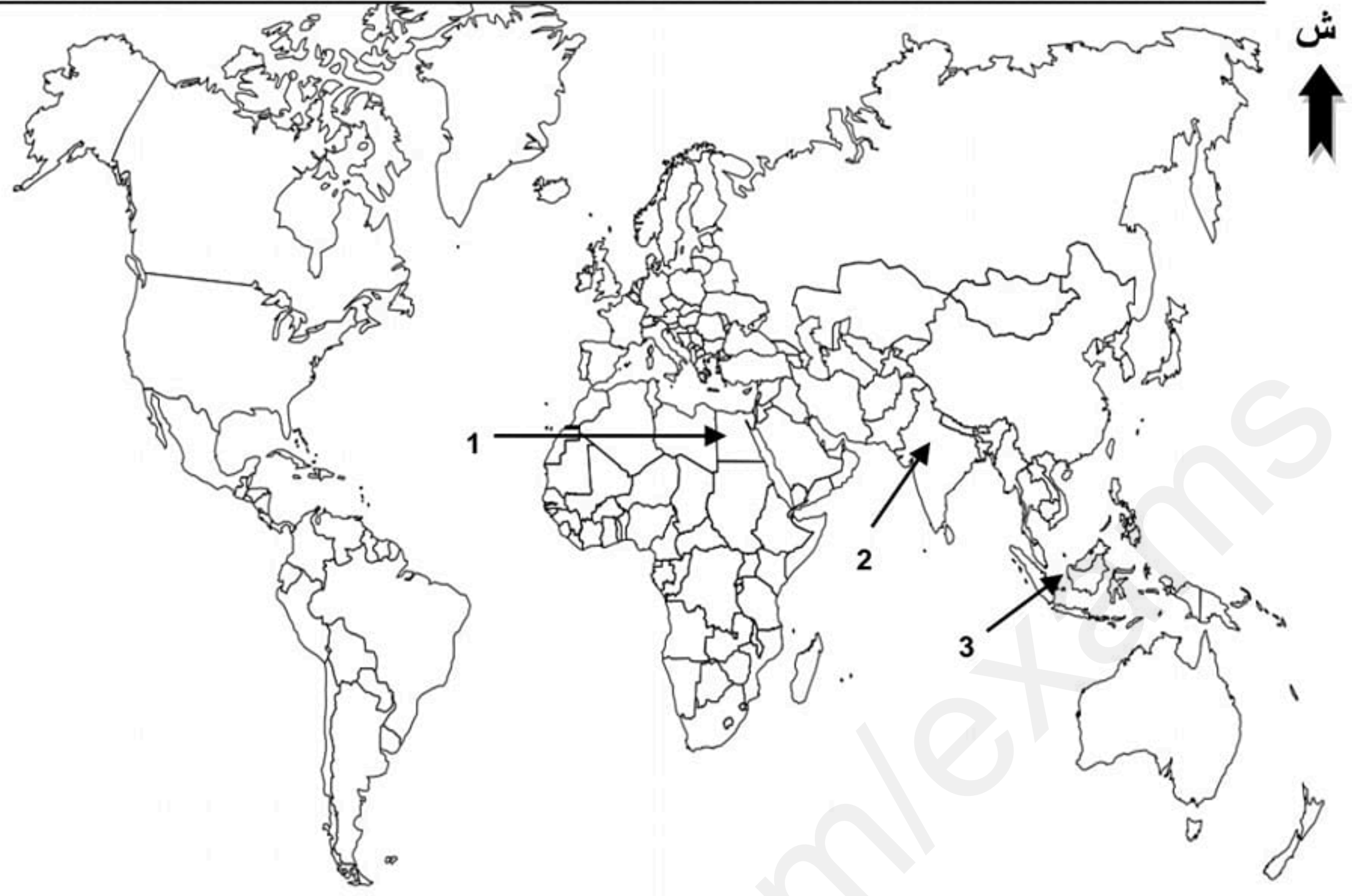
المقياس :

0.5		<p>الجزء الثاني :</p> <p>مقدمة : بعد الخراب الذي حل بأوروبا اثر نهاية الحرب العالمية الثانية ووقوعها في ظروف اقتصادية صعبة، أدى ببعض الأقطار الأوروبية الى التفكير في خطة اندماج اقتصادية توحد بها جهودها من اجل تجاوز الخلافات وإعادة بناء ما دمرته الحرب، كيف ذلك ؟</p>
0.25 6 ×	4	<p>1) مظاهر الاندماج الاقتصادي في الاتحاد الاوروبي :</p> <ul style="list-style-type: none"> ● الغاء الرسوم الجمركية على السلع بين دول الاتحاد . ● تحقيق حرية التنقل للأفراد واليد العاملة. ● اعتماد سياسة فلاحية مشتركة (اوروبا الخضراء، اوربا الزرقاء). ● اقامة مشاريع صناعية مشتركة . ● توحيد العملة (الاورو). ● وضع تدابير تجارية موحدة (التجارة البينية)
0.25 6 ×		<p>2) التحديات التي تواجه اندماج الكلي الاتحاد الأوروبي :</p> <ul style="list-style-type: none"> ● عدم انضمام كل دول الاتحاد الى منطقة اليورو. ● افتقاره للموارد الاولية وتبعيته للخارج. ● عدم احترام مبدأ الافضلية بين دوله . ● عدم تجانس دول الاتحاد عرقيا ودينيا. ● خروج بريطانيا من الاتحاد الأوروبي (بريكست) . ● التباين الاقتصادي بين دوله (اليونان – المانيا) .
0,5		<p>خاتمة : رغم الصعوبات والتحديات، إلا ان التكتل اعاد لأوروبا مكانتها السياسية والاقتصادية وحولها لثاني قطب اقتصادي عالمي بعد الولايات المتحدة الامريكية. تقبل كل الإجابات الصحيحة</p>

منحنى بياني يمثل تطور نصيب الفرد من إجمالي الدخل القومي في الإتحاد الأوروبي و الولايات المتحدة الأمريكية ما بين 1990-2023



خريطة تمثل الدول التي ينتمي إليها الرؤساء الواردة أسماؤهم في النص



المفتاح :
1 - مصر 2 - الهند 3 - اندونيسيا