

امتحان بكالوريا التجريبي في التاريخ و الجغرافيا (دورة ماي 2016)

المدة: 4 ساعات و 30 د

الشعبة: آداب و فلسفة

عالج موضوعا واحدا على الخيار

الموضوع الأول (20 نقطة)

مادة التاريخ :

الجزء الأول (6ن)

" (أمام الانحياز الصارخ للدول الغربية تجاه الموقف الفرنسي)... قرر المجلس الوطني للثورة الجزائرية تعبئة أقصى ما في حوزة جبهة التحرير الوطني من إمكانيات من أجل النفاذ إلى مختلف مستويات القرار في البلاد الغربية، و بفضل تحركات الكتلة الأفرو آسيوية و بعض مواقف المعسكر الاشتراكي، استطاعت القضية الجزائرية أن تفرض نفسها على الساحة الدولية بالتدرج..."  
د/ مجد العربي زبيري، تاريخ الجزائر المعاصر ج 2 ص 119 .

1- اشرح ما تحته خط في السند.

2- عرف بالشخصيات التالية:

♦ حسين آيت احمد ♦ جوزيف ستالين ♦ شارل ديغول  
3- أملأ الجدول بما يناسب

الحدث	تاريخه	نتيجته الأساسية
.....	1954 /05/ 07	.....
انعقاد قمة (مؤتمر) مالطا	.....	.....
.....	1956 /08/ 20	.....

4- من خلال ما درست وقع على خريطة العالم (الشكل1) أربع أزمات دولية ظهرت في إطار الصراع بين الشرق و الغرب.

الجزء الثاني: (4ن)

بحكم أهميتها الجغرافية و الاقتصادية تحولت منطقة الشرق الأوسط (المشرق العربي) إلى مسرح للتجادب و التنافس بين المعسكرين الشرقي و الغربي خلال فترة الحرب الباردة دفع ثمنها شعوب المنطقة و على رأسها الشعب الفلسطيني.

المطلوب: انطلاقا من الفكرة و اعتمادا على ما درست اكتب مقالا تاريخيا تبرز فيه:

- 1 - مظاهر الحرب الباردة في منطقة الشرق الأوسط خلال فترة 1955 - 1957
- 2 - موقف الولايات المتحدة الأمريكية من القضية الفلسطينية بعد 1945.

مادة الجغرافيا:

الجزء الأول: (6ن)

"أنه عالم يطغى عليه الاقتصاد، عالم يتم اكتساب القوة و السلطة فيه بالعلوم و المعرفة و التكنولوجيا. و من المعروف على الصعيد الاقتصادي إن التحولات الجارية على النطاق العالمي ترافقها اختلالات قد يهدد تفاقمها الاستقرار في مناطق واسعة من المعمورة. إن استقطاب التدفقات التجارية و تدفق الاستثمارات المنتجة في المناطق الاقتصادية من الثالوث يزيد من تهميش الفضاءات الجهوية الأخرى.."

الكتاب المدرسي ص 38

1 - اشرح ما تحته خط في السند.

2- إليك جدول يتضمن تطور الناتج المحلي الإجمالي لبعض القوى الاقتصادية العالمية بمليون دولار أمريكي

البلدان	الهند	البرازيل	اليابان	ألمانيا
2004	712	670	4655	2815
2014	2066	2346	4601	3552

<http://perspective.usherbrooke.ca>

أ/ مثل معطيات الجدول بواسطة أعمدة (1سم = 500 مليون دولار)  
ب/ علق على الشكل.

3- و قع على خريطة البرازيل (الشكل 3) المثلث الحيوي و ثلاث بلدان تشترك معه في الحدود.

#### **الجزء الثاني: (4ن)**

نجحت بلدان شرق و جنوب شرق آسيا في تحويل وزنها الديمغرافي الكبير إلى عامل حاسم حققت بفضلها وثبة اقتصادية عملاقة رغم المعوقات التي يشكلها الوسط الطبيعي.

**المطلوب:** انطلاقا من الفكرة و اعتمادا على ما درست حرّر موضوعا جغرافيا تبرز فيه ما يلي:

1- مكانة منطقة شرق و جنوب شرق آسيا في الاقتصاد العالمي..

2- دور العامل البشري في بلوغ تلك المكانة.

## الموضوع الثاني (20 نقطة)

مادة التاريخ:

الجزء الأول: (6ن)

" ليس هناك شك في أن التغييرات التي شهدتها **النظام الدولي** و لاسيما منه سقوط **جدار برلين** و نهاية الحرب الباردة، قد غدت بالقدر الأوفر الاعتقاد المشترك على أوسع نطاق، بأن **صفحة مؤلمة** من صفحات تاريخ البشرية قد طويت. و ذلك ما أثلج صدر شعوب أوروبا و غيرها بنهاية التناحر الإيديولوجي بين الكتلتين الغريمتين ...".  
الكتاب المدرسي للجغرافيا ص 38

1- اشرح ما تحته خط في السند.

2- عرف بالشخصيات التالية:

◆ المهاتما غاندي ◆ بن يوسف بن خدة ◆ جون كنيدي

3- أملأ الجدول بما يناسب

الحدث	تاريخه	نتيجته الأساسية
.....	1 - 6 / 09 / 1973	.....
قيام دولة "إسرائيل"	.....	.....
.....	6 - 9 / 08 / 1945	.....

3 - وقع على خريطة أوروبا (الشكل 2) أربعة أعضاء من حلف وارسو.

الجزء الثاني: (4ن)

جاء في كتاب " نهاية حرب التحرير في الجزائر: اتفاقيات إيفيان " لبن يوسف بن خدة ما يلي: " إن المعركة حول بساط المفاوضات لا تقل خطورة عن الحرب المسلحة و يمكن للعدو أن يستعملها لضرب الوحدة و تنمية روح الاستسلام ... كل مفاوضة تعد مساومة، فهي تقتضي تنازلات، و لكن لا تقبل المساس بأي مبدأ من المبادئ التي لا يمكن المس بها..."

المطلوب: انطلاقا من السند و اعتمادا على معارفك أكتب مقالا تاريخيا تبين فيه:

1 - أسباب رضوخ فرنسا لمبدأ التفاوض مع الحكومة المؤقتة للجمهورية الجزائرية.

2 - مدى استجابة اتفاقيات إيفيان 18 / 03 / 1962 لمبادئ و أهداف الثورة التحريرية.

مادة الجغرافيا:

الجزء الأول: (6ن)

«...وإذا عرفنا أن الشركات الكبرى المهيمنة على الرأسمال العالمي والمسماة بالشركات المتعدية للجنسية هي التي تدير العولمة فإن ذلك من شأنه أن يدعم الهوية ويكرس التخلف. الأكثر من ذلك أن عمليات العولمة تبدو خطيرة حتى بالنسبة للدول المتقدمة التي ترى دول كثيرة منها أن العولمة ليست إلا أمركة للعالم.»  
د/يوسف مجد الصواني، الاقتصادي العالمي في عصر العولمة (مقال)

1 - أشرح ما تحته خط في السند

2 - جدول للصادرات الداخلية -البينية- للاتحاد الأوروبي سنة 2013 المقدر بـ 1737 مليار أورو.

البلد	إيطاليا	ألمانيا	فرنسا	بريطانيا	البنيلوكس	بقية البلدان
الحصة	10.4%	27.1%	10.2%	13.3%	15.8%	24.2%

<http://ec.europa.eu>

مثل معطيات الجدول بواسطة دائرة نسبية (نق=4سم)

أكبر 12 دولة مصدرة و مستوردة للقمح سنة 2008 (التجارة العالمية للقمح = 93.8 م.طن)



أ/ استخلص مميزات السوق العالمية للقمح.

ب/ من الخريطة سم ثلاثة بلدان مصدرة و ثلاثة بلدان مستوردة للقمح على أن تكون في ثلاث قارات .

#### الجزء الثاني:(4ن)

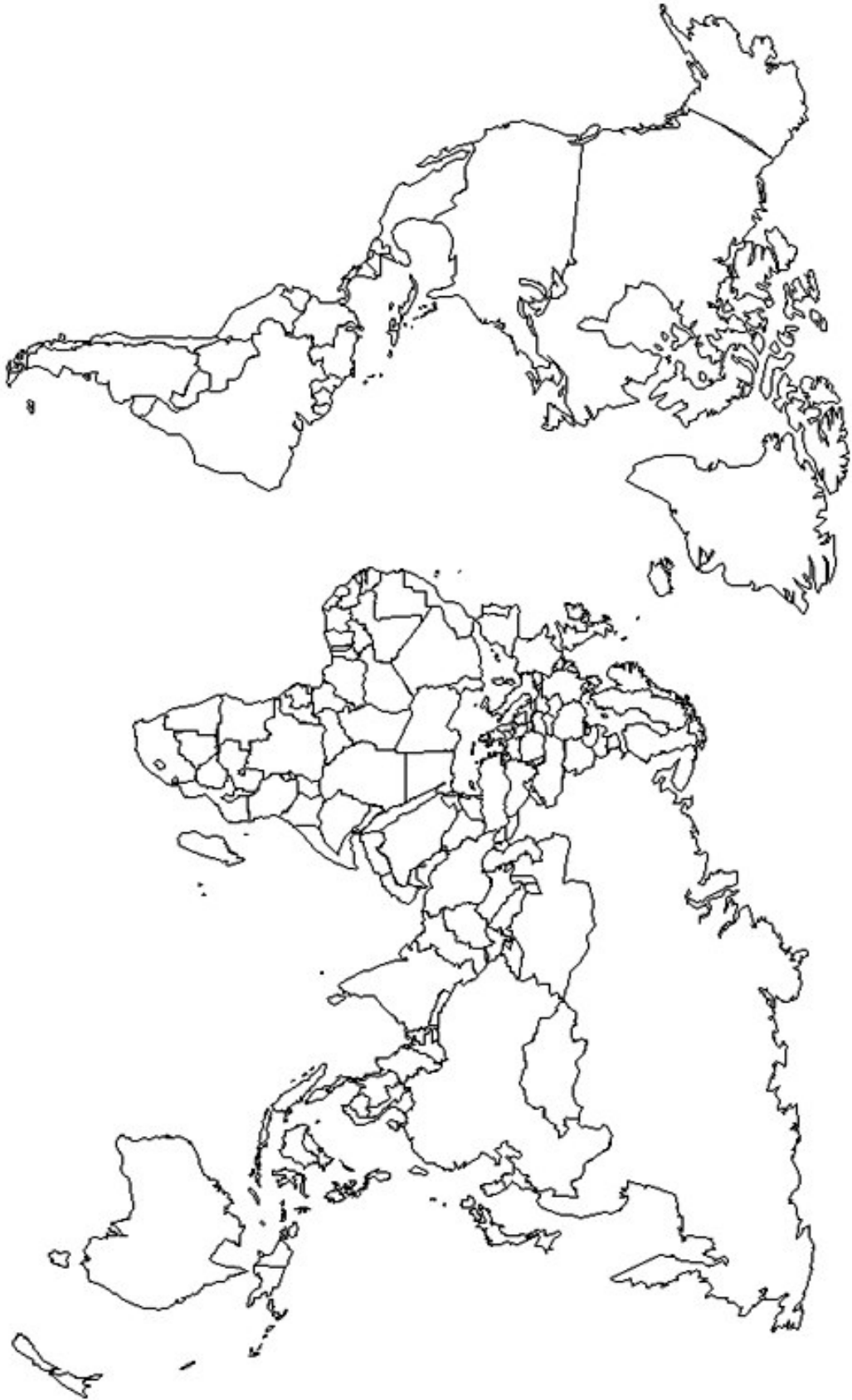
قال احد الاقتصاديين في خصوص تفسير ظاهرة التخلف " لا وجود لبلدان متخلفة بل هناك بلدان تعاني من سوء التسيير".

**المطلوب:** انطلاقا من الفكرة و اعتمادا على ما درست حرّر موضوعا جغرافيا تبرز فيه ما يلي:

1- أسباب تخلف بلدان الجنوب.

2- الانجازات التي حققتها التجربة التنموية الهندية.

بالتوفيق إن شاء الله



الشكل 1

الشكل 2



Projection horizontale équivalente.

الشكل 3





### مقال التاريخ:

#### مقدمة:

تتوأ منطقة الشرق الأوسط بمكانة هامة في العالم نظرا لموقعها الاستراتيجي بين قارتي إفريقيا و آسيا و إشرافها على قناة السويس التي تعد ممرا بحريا أساسيا، إضافة إلى كونها أكبر خزان للبترو ل في العالم. لذلك أضحت طوال فترة الحرب الباردة مسرحا للتنافس بين المعسكرين خاصة الغرب الذي أراد المحافظة على نفوذه في المنطقة بعد 1945 بالتصدي للحركات التحررية تحت ذريعة وقف الزحف الشيوعي.

#### 1- مظاهر الحرب الباردة بين 1955 و 1957:

**أ/ تأسيس حلف بغداد 1955** ضم حلف بغداد دول المنطقة الموالية للغرب كالعراق و تركيا و إيران و أفغانستان و باكستان بالإضافة إلى بريطانيا و فرنسا و يهدف ظاهريا إلى منع تسلل النفوذ السوفياتي إلى المنطقة لكن في الواقع كان يسعى إلى حماية الأنظمة المحلية المرتبطة بالغرب من الخطر الذي كانت تمثله الأفكار التحررية المنتشرة منذ قيام الثورة المصرية 1952 إضافة إلى خلق ظروف سياسية ملائمة تمكن الكيان الصهيوني الفتني من العيش في المنطقة. ثم انتقل مقر هذا الحلف إلى أنقرة بتركيا سنة 1959 بعد قيام الثورة العراقية و الانسحاب منه و اتخذ تسمية الحلف المركزي CENTO.

## التصحيح النموذجي لبعض الأسئلة (3آف)

### مادة التاريخ:

#### شرح بعض المصطلحات:

**المجلس الوطني للثورة الجزائرية:** أعلى سلطة في جبهة التحرير خلال الثورة تمخض عن قرارات مؤتمر الصومام 1956 يتكون من 17 عضو و 17 نائب يمثلون مناطق البلاد يضطلع على صلاحيات تشريعية تتولى لجنة التنسيق و التنفيذ تطبيق قراراته و يجسد مبدأ القيادة الجماعية للثورة الجزائرية.

**الكتلة الأفرو آسيوية:** هي مجموعة بلدان حديثة الاستقلال في إفريقيا و آسيا التي تضامنت فيما لمواجهة كل أشكال الهيمنة و اعتمدت سياسة الحياد الايجابي و تجسدت هذه السياسة منذ انعقاد مؤتمر باندونغ 1955 الـ اعتمدت توصياته كمبادئ لحركة عدم الانحياز بعد 1961.

**النظام الدولي:** هو مجموعة من القواعد و القيم التي تسر بها العلاقات الدولية في فترة زمنية معينة قد يحدد بموجب اتفاق بين مجموعة من البلدان أو يفرضه طرف قوي على بقية أعضاء المجموعة الدولية مثل نظام الثنائية القطبية بعد 1945 و الأحادية القطبية بعد 1989.

**القضية الجزائرية:** هي التسمية التي استعملت في الصحافة و المحافل الدولية للدلالة على الصراع الدائر في الجزائر بين جبهة التحرير و السلطات الاستعمارية الفرنسية. إذ كانت فرنسا تدعي أنها تحارب الخارجون على القانون و تعتبرها شأنا داخليا في حين نجحت جبهة التحرير في إقناع الرأي العام العالمي على أنها قضية شعب يطالب بحق تقرير مصيره و فرنسا تنتهك القوانين و الاعراف الدولية باصرارها على مواصلة الحرب.

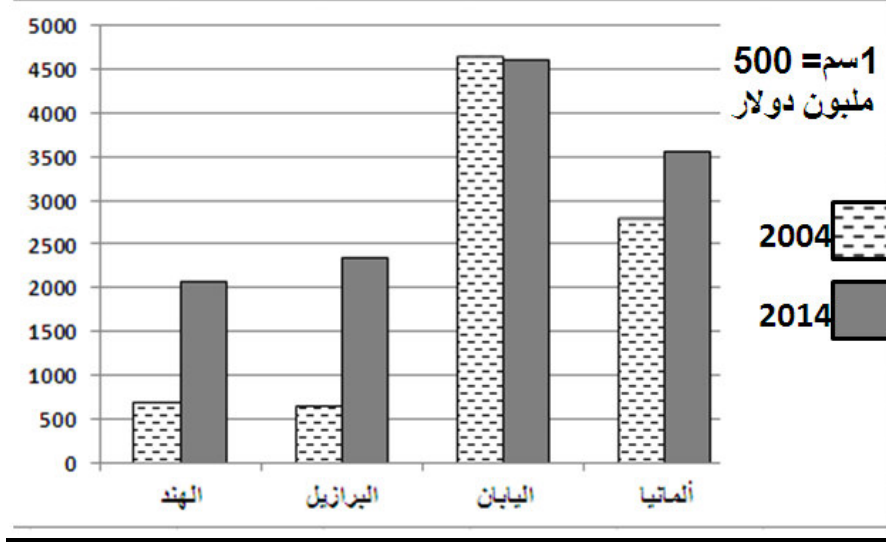
**صفحة مؤلمة:** هي تلك الفترة الخطيرة التي مرت عليها البشرية جراء اشتداد الصراع بين المعسكرين 1945 – 1989 حيث شهد العالم تنافسا حادا على امتلاك أسلحة الدمار الشامل و عدة حروب و أزمات خطيرة خلفت خسائر جسيمة كادت أن تؤدي بالعالم على حرب نووية مثل حرب كوريا 1950- 1953 و أزمة كوبا 1962.

الحدث	تاريخه	نتيجته الأساسية
المؤتمر 4 لحركة عدم الانحياز بالجزائر	1 - 6 / 09 / 1973	تطور اهتمامات الحركة من السياسي إلى الاقتصادي
قيام دولة "إسرائيل"	15 / 05 / 1948.	صياغ فلسطين (النكبة)
قصف الوم ا هيروشيما و نغازاكي بالسلح الذري	6 - 9 / 08 / 1945	نهاية الحرب ع2 و بداية التسابق نحو التسلح

**الاستثمارات** هي عمليات توظيف رؤوس الأموال في مشاريع اقتصادية تنتج سلعاً أو خدمة قصد تحقيق ربح مادي. تعمل الدول في ظل العولمة على تشجيعها لتحقيق الرفاهية.

### الشكل الثاني

#### تطور الناتج المحلي الإجمالي لبعض القوى الاقتصادية العالمية



### التعليق:

الشكل عبارة عن أعمدة تكرارية لتطور الناتج المحلي الإجمالي لكل من ألمانيا و اليابان و البرازيل و الهند في سنتي 2004 و 2014. من خلاله نسجل ارتفاع الناتج لليابان ثم تليها ألمانيا باعتبارهما بلدان صناعية كبرى تستفيد من التطور التكنولوجي و يد عاملة مؤهلة و ضخامة رؤوس الأموال المستثمرة. ثم تأتي كل من البرازيل و الهند في المرتبتين الثالثة و الرابعة اللتان تسجلان نمواً سريعاً لاقتصادهما بين 2004 و 2014 لاعتمادهما بالشكل الكبير على التحرير المطلق للاقتصاد و جلب الاستثمارات الأجنبية و وفرة اليد العاملة الرخيصة. في ظل استمرار النمو السريع لاقتصاديات البلدان الصاعدة التي تنتمي إليها البرازيل و الهند بدأ الوضع الاقتصادي العالمي يشهد تحولات جذرية بحيث ستزداد مكانة هذه الدول و تتراجع قوة التأثير لدى البلدان الصناعية الكبرى (مجموعة 7) التي بقيت تسيطر على المشهد الاقتصادي و السياسي العالمي لفترة طويلة.

**ب/ العدوان الثلاثي على مصر 29-30 أكتوبر 1956:** إن تشجيع جمال عبد الناصر لنشاط الحركات التحررية في الوطن العربي و معارضة الكيان الصهيوني و تأمين قناة السويس في 16/07/1956 و التقرب تجاه المعسكر الشرقي جعلت إسرائيل تنفذ عدواناً عسكرياً على منطقة قناة السويس ثم التحقت بها فرنسا و بريطانيا في اليوم الموالي بدعوى تأمين الملاحة الدولية عبر القناة فاحتلت القناة و المدن المجاورة لها. لكن هذه البلدان اضطرت إلى الانسحاب بعد التهديد السوفياتي و الاستنكار الأمريكي. **ج/ صدور مشروع إيزنهاور 1957:** طبقاً لسياسة ملاً الفراغ أصدر الرئيس الأمريكي دوايت إيزنهاور مشروعاً اقتصادياً يتضمن منح مساعدات مالية و اقتصادية لبلدان الشرق الأوسط قدرت بنحو مليون دولار بهدف من خلاله إغراء بلدان الشرق الأوسط بمساعدات حتى تبقى خاضعة للنفوذ الغربي بعد الغضب الشعبي من العدوان الثلاثي و مناصرة الشعوب العربية لسياسة مصر الثورية و كذا منع تسلل النفوذ السوفياتي إلى المنطقة العربية عبر مساعدات مادية و تقنية و عسكرية. **2- الموقف الأمريكي من القضية الفلسطينية منذ 1945:** مع تراجع مكانة بريطانيا الدولية بعد 1945 برز الدور الأمريكي الحاسم في تأييد المشروع الصهيوني من خلال:

**أ/ تشجيع الرئيس ترومان للهجرة اليهودية و تكفل بنقل 100 ألف يهودي قصد الاستيطان في فلسطين**  
**ب/ أول دولة تعترف بقيام "دولة" إسرائيل في 15 ماي 1948.**  
**ج/ توظيف حق الفيتو في مجلس الأمن الدولي للتغطية على جرائم إسرائيل و تعدياتها المتكررة للشرعية الدولية و على حقوق الشعب الفلسطيني و استخدامه لإنقاذ الجيش الصهيوني من الهزيمة العسكرية بإقرار هدنة في حرب 1948**  
**د/ دعم إسرائيل اقتصادياً و عسكرياً حتى تحافظ على تفوقها الكبير في الشرق الأوسط..**

**هـ/ تشتت الصف العربي باستقطاب بعض الدول العربية لحملها على إتباع سياسة التطبيع مع إسرائيل مثل مصر (معاهدة كامب دافيد 1978) و الأردن أو تحويل أنظارها عن العدو الصهيوني بالتضخيم من الخطر الشيعي و الإيراني (بلدان الخليج). و/ إطلاق المفاوضات بين إسرائيل و الفلسطينيين و فرض ضغوطات على الفلسطينيين لدفعهم إلى توقيع على اتفاقية السلام دون الاستجابة للمطالب الفلسطينية الأساسية مثل حق عودة اللاجئين و اعتراف بالقدس الشرقية كعاصمة للدول الفلسطينية المستقلة و تفكيك المستوطنات.**  
**الخاتمة:** أضحت مسألة الشرق الأوسط تهدد السلم العالمي منذ فترة الثنائية القطبية و ازدادت تعقيداً في ظل الأحادية القطبية بسبب استمرار تدخلات أطماع القوى الكبرى في شؤون المنطقة و تأييدها المطلق لإسرائيل و تجاهلها للحقوق الشرعية للشعب الفلسطيني.

### موضوع الجغرافيا

#### 1- شرح المصطلحات:

**الاختلالات:** تعني تلك المشاكل و التناقضات الناتجة عن العولمة مثل اتساع الهوة بين الأغنياء و الفقراء و هيمنة القوى العظمى و شركاتها و ثقافتها على العالم مما ينجر عنه اندلاع الحروب و تدفق المهاجرين و انتشار الإرهاب الدولي...



اقتصادياتها حيث استفادة من التحول التكنولوجي الياباني لتحقيق التنمية الاقتصادية وهي بذلك دول حديثة التصنيع وهي تشكل إقليما هاما وقوة تجارية ومراكز مالية هامة ووزنا ديموغرافيا كبيرا.

--- تعتبر المنطقة مركز جذب الاستثمارات المالية الأجنبية وهي ذات اقتصاد مفتوح على العالم بالإضافة إلى غزو الأسواق العالمية عن طريق تكثيف وتوسيع علاقاتها التجارية مع كل دول العالم وتوسيع التعاون الصناعي مع ال.م.أ و الاتحاد الأوروبي.

--- احتكار المنطقة 21 % من حجم المبادلات التجارية العالمية منها 10% لليابان 2004

--- القدرة على التكيف وتهيئة الإقليم بشكل عقلاني مثل مد الطرق بين الجزر الهامة وإنجاز هياكل قاعدية متنوعة \* ضخامة الإنتاج وتنوعه .

--- تطوير مستمر للمواصلات خاصة الأسطول البحري حيث تمتلك المنطقة أهم وأكبر الموانئ العالمية مثل مينائي هونغ كونغ ومكاو.

--- التكتل والتعاون الاقتصادي بين دول شرق آسيا مثل إنشاء اتحاد دول جنوب شرق آسيا " ASEAN " ويهدف هذا الاتحاد إلى إيجاد منطقة للتبادل التجاري الحر وإزالة الحواجز الجمركية وضمان التنمية الاقتصادية والاجتماعية والثقافية للمنطقة.

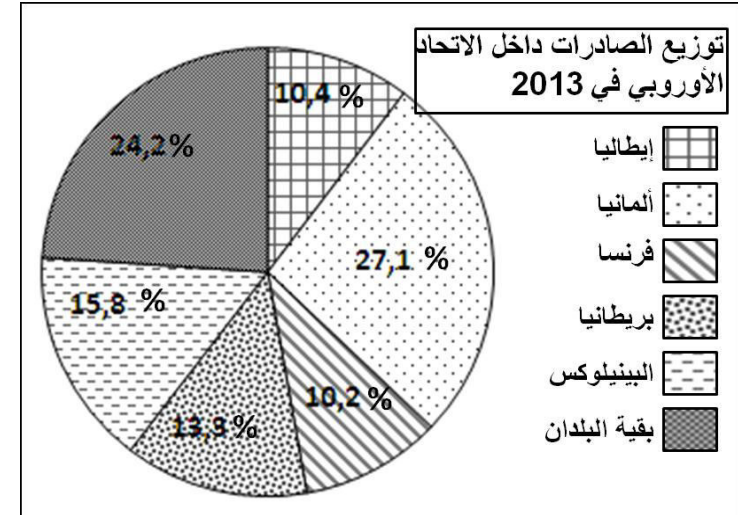
## 2- دور العامل البشري في بلوغ تلك المكانة: 1.25ن

- تضم المنطقة أكبر تمركز سكاني على مستوى العالم بحوالي 2 مليار نسمة.-  
تتوفر على أكبر المدن العالمية مثل طوكيو - شانغهاي - بكين- سوق استهلاكية ضخمة تشجع على زيادة الإنتاج - وفرة اليد العاملة المؤهلة المهارة اليابانية ونشاط العنصر الصيني- حركة الهجرة و دورها في تدفق رؤوس الأموال و الاستثمارات

-تعتبر منطقة شرق آسيا قوة ديموغرافية وفضاء قويا للنمو الاقتصادي  
- أن الوزن الديموغرافي ووفرة اليد العاملة المؤهلة والبحث عن الربح والاندماج في الاقتصاد الرأسمالي كلها مقومات ساهمت في إبراز المنطقة كقطب اقتصادي أساسي في العالم في مطلع القرن 21.

-تأقلم السكان مع الوسط الطبيعي غير الملائم من خلال تدريبهم على طرق الوقاية من الكوارث كالزلازل و الحرائق و التلوث...

**خاتمة:**الإشارة الى بعض المشاكل التي تعاني منها المنطقة 0.5ن



## مقال في الجغرافيا:

**مقدمة:** تشكل منطقة شرق و جنوب شرق اسيا عنصر وحدة و نشاط حيوي و تتميز بكثرة المبادلات التجارية و مؤسسات استثمارية ضخمة . فهي قوة اقتصادية متعددة الأقطاب و فضاء اقتصادي عملاق في المحيط الهادي 0.5ن

## 1- مكانة منطقة شرق و جنوب شرق آسيا في الاقتصاد العالمي: 1.75ن

--- تعد احد الاقطاب الاقتصادية الرئيسية الى جانب الولايات المتحدة والاتحاد الاوربي

--- قوة الصناعة والتقدم التكنولوجي خاصة في مجال الصناعات الدقيقة\* والروبوتية وصناعة السيارات.

--- استحوذت المنطقة على 1/4 الثروة العالمية تقريبا وهي مدينة في ذلك للثروة المالية اليابانية

--- إن الصين بحكم إقليمها الواسع و توفرها على مصادر الطاقة والمعادن المختلفة ووزنها الديموغرافي الضخم في آسيا، قد تحولت إلى ما يسمى بورشة ومخابر العالم وهي تحتل المرتبة السادسة صناعيا

--- نجاح بعض دول جنوب شرق آسيا ( دول التينين الرباعي ) في تطوير